

UZUPEŁNIA ZDAJĄCY

KOD			PESEL											
<input type="text"/>	<input type="text"/>	<input type="text"/>	<input type="text"/>	<input type="text"/>	<input type="text"/>	<input type="text"/>	<input type="text"/>	<input type="text"/>	<input type="text"/>	<input type="text"/>	<input type="text"/>	<input type="text"/>	<input type="text"/>	<input type="text"/>

miejsce
na naklejkę**EGZAMIN MATURALNY Z FIZYKI**
POZIOM ROZSZERZONYDATA: **11 maja 2015 r.**GODZINA ROZPOCZĘCIA: **9:00**CZAS PRACY: **180 minut**LICZBA PUNKTÓW DO UZYSKANIA: **60****Instrukcja dla zdającego**

1. Sprawdź, czy arkusz egzaminacyjny zawiera 18 stron (zadania 1–16). Ewentualny brak zgłoś przewodniczącemu zespołu nadzorującego egzamin.
2. Rozwiązania i odpowiedzi zapisz w miejscu na to przeznaczonym przy każdym zadaniu.
3. W rozwiązaniach zadań rachunkowych przedstaw tok rozumowania prowadzący do ostatecznego wyniku oraz pamiętaj o jednostkach.
4. Pisz czytelnie. Używaj długopisu/pióra tylko z czarnym tuszem/atramentem.
5. Nie używaj korektora, a błędne zapisy wyraźnie przekreśl.
6. Pamiętaj, że zapisy w brudnopisie nie będą oceniane.
7. Możesz korzystać z *Wybranych wzorów i stałych fizykochemicznych na egzamin maturalny z biologii, chemii i fizyki*, linijki oraz kalkulatora prostego.
8. Na tej stronie oraz na karcie odpowiedzi wpisz swój numer PESEL i przyklej naklejkę z kodem.
9. Nie wpisuj żadnych znaków w części przeznaczonej dla egzaminatora.



MFA-R1_1P-152



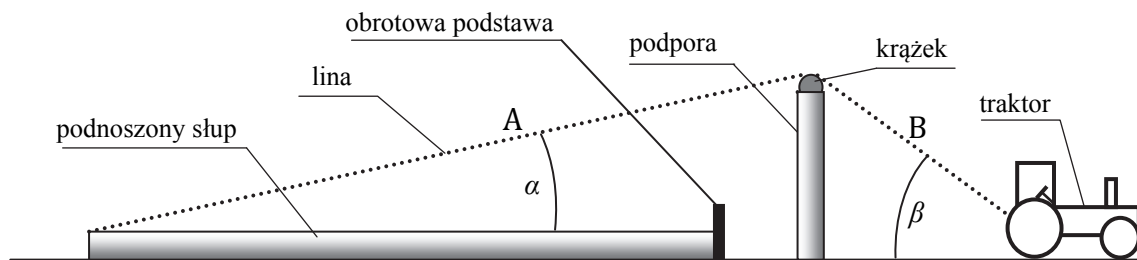
Dokończ poniższe zdanie. Zaznacz właściwe uzupełnienia wybrane spośród A i B oraz spośród 1–3.

Takie ustawienie powierzchni wody jest możliwe, gdy dodatkowa siła działająca na wózek była skierowana

A.	w prawo,	a wózek	1.	musiał poruszać się w prawo.
			2.	musiał poruszać się w lewo.
B.	w lewo,		3.	mógł poruszać się w dowolną stronę (w prawo lub w lewo).

Zadanie 3.

Słupy energetyczne linii przesyłowych wysokiego napięcia można składać z części na powierzchni ziemi, a następnie podnosić je do pozycji pionowej za pomocą liny, podpory z obrotowym krążkiem i na przykład traktora. Do wierzchołka leżącego słupa przyczepia się jeden z końców liny i przesuwa ją przez podporę, natomiast drugi koniec liny jest ciągnięty przez traktor. Drugi koniec słupa opiera się o zakotwiczoną w ziemi obrotową podstawę (rysunek poniżej). Zakładamy, że krążek na podporze obraca się bez tarcia.



Zadanie 3.1. (0–1)

Oceń prawdziwość poniższych zdań. Zaznacz P, jeśli zdanie jest prawdziwe, lub F – jeśli zdanie jest fałszywe.


1.	Podczas powolnego podnoszenia słupa siła naciągu liny w części A ma inną wartość niż siła naciągu liny w części B.	P	F
2.	W początkowej fazie podnoszenia słupa kąt β między liną a poziomem maleje.	P	F
3.	Przy niezmiennej wysokości podpory i niezmiennym położeniu obrotowej podstawy siła naciągu liny konieczna do uniesienia słupa z pozycji poziomej zależy od wysokości (długości) słupa.	P	F

Wypełnia egzaminator	Nr zadania	1.1.	1.2.	1.3.	1.4.	2.	3.1.
	Maks. liczba pkt	1	1	1	1	1	1
	Uzyskana liczba pkt						

Zadanie 3.2. (0–4)

Masa słupa wynosi 2000 kg, a kąt α jest równy 15° . Przyjmujemy, że środek masy słupa znajduje się w połowie jego długości.

Oblicz minimalną wartość siły naciągu liny konieczną do uniesienia leżącego słupa.




Zadanie 3.3. (0–3)

Słup o długości 12 m był podnoszony bardzo powoli. Gdy był on już w położeniu prawie pionowym, lina odzepiła się od niego. W wyniku tej awarii słup się przewrócił.

Oblicz wartość prędkości liniowej końca słupa w chwili uderzenia o powierzchnię ziemi.


Przyjmij, że słup można potraktować jako cienki jednorodny pręt. Moment bezwładności takiego pręta względem osi prostopadłej do niego i przechodzącej przez jego koniec jest równy $I = \frac{1}{3}m \cdot l^2$, gdzie m jest masą pręta, a l – jego długością.



Wypełnia egzaminator	Nr zadania	3.2.	3.3.
	Maks. liczba pkt	4	3
	Uzyskana liczba pkt		

Zadanie 4.4. (0–3)

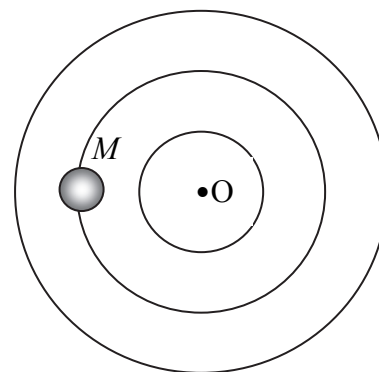
Oblicz okres drgań wózka.



Zadanie 5.

Znaczna część gwiazd, które widzimy na nocnym niebie, występuje w układach podwójnych. Gwiazdy fizycznie podwójne to układy złożone z dwóch gwiazd krążących dookoła wspólnego środka masy. Gołym okiem dostrzegane są zwykle jako gwiazdy pojedyncze.

Załóżmy, że mamy do czynienia z układem dwóch gwiazd o różnych masach M i m , które krążą wokół wspólnego środka masy O po orbitach kołowych. Na rysunku obok przedstawiono 3 okręgi. Dwa spośród nich mogą być orbitami gwiazd tworzących układ podwójny. Na jednym z tych okręgów zaznaczono położenie gwiazdy o większej masie M .




Zadanie 5.1. (0–1)

Zaznacz na odpowiednim okręgu i we właściwym miejscu oraz opisz literą m położenie gwiazdy o mniejszej masie.

Zadanie 5.2. (0–2)

Dana jest odległość d między gwiazdami. Odległość środka masy układu od gwiazdy o masie M oznaczamy jako x . Rozmiary gwiazd należy pominąć.

Wyprowadź wzór wyrażający zależność x od d , M i m .



Wypełnia egzaminator	Nr zadania	4.1.	4.2.	4.3.	4.4.	5.1.	5.2.
	Maks. liczba pkt	1	1	2	3	1	2
	Uzyskana liczba pkt						


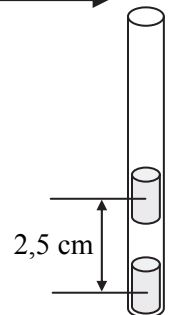
Zadanie 11.1. (0–5)

a) Narysuj wykres zależności $F(r)$.



b) Górny magnes zbliżono do dolnego na odległość 2,5 cm (mierzoną między ich środkami – rysunek obok).

Oszacuj, korzystając z wykresu, pracę wykonaną przeciw sile F przy zbliżaniu magnesów, jeśli początkowo ich środki były odległe o 5 cm.



Wypełnia egzaminator	Nr zadania	10.2.	10.3.	11.1.
	Maks. liczba pkt	2	1	5
	Uzyskana liczba pkt			

Zadanie 16. (0–2)

Podkreśl właściwe określenia, tak aby powstały zdania prawdziwe.

- Przypuszcza się, że Słońce powstało około 4,6 miliarda lat temu. Głównym źródłem energii Słońca są reakcje (*łączenia / rozpadu*) jąder (*lekkich / ciężkich*).
- Układ Słoneczny znajduje się (*w centrum Galaktyki / około 30 tys. lat świetlnych od centrum Galaktyki*).
- W obecnej chwili Wszechświat (*powoli kurczy się / zachowuje stałe rozmiary / stale się rozszerza*).

Wypełnia egzaminator	Nr zadania	15.3.	16.
	Maks. liczba pkt	3	2
	Uzyskana liczba pkt		

BRUDNOPIS (*nie podlega ocenie*)

Dodatkowe arkusze na stronie: www.inspiroteka.com

